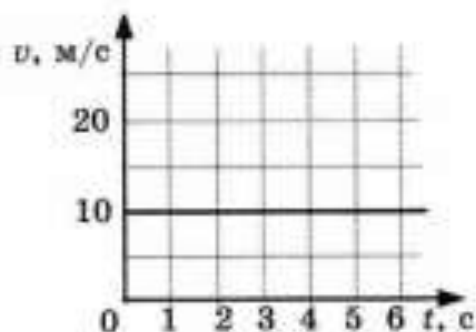


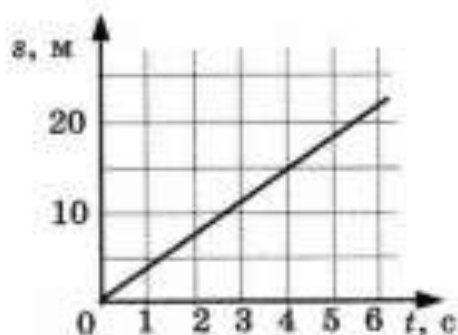
## CP-13. Графики пути и скорости

### ВАРИАНТ № 1

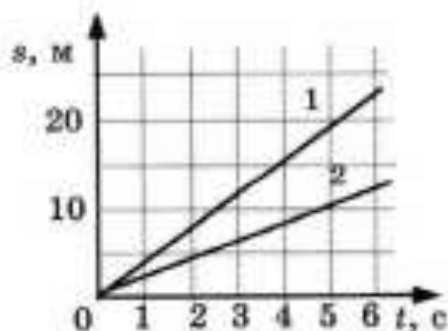
1. По графику скорости прямолинейного движения определите путь, пройденный телом за 20 с.



2. По графику пути равномерного движения определите путь, пройденный телом за 4 с движения.

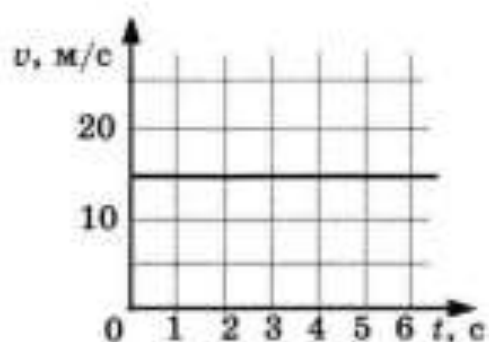


3. По графикам пути равномерного движения двух тел сравните их скорости.

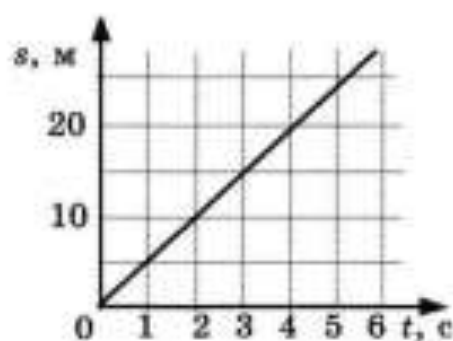


## ВАРИАНТ № 2

1. По графику скорости прямолинейного движения определите путь, пройденный телом за 20 с.



2. По графику пути равномерного движения определите путь, пройденный телом за 4 с движения.



3. По графикам пути равномерного движения двух тел сравните их скорости.

